



POLITÉCNICA

**UNIVERSIDADES PÚBLICAS DE LA COMUNIDAD DE MADRID**  
EVALUACIÓN PARA EL ACCESO A LAS ENSEÑANZAS  
UNIVERSITARIAS OFICIALES DE GRADO

Curso 2018-2019

**MATERIA: GEOGRAFÍA**

**INSTRUCCIONES GENERALES Y CALIFICACIÓN**

Después de leer atentamente todas las preguntas, el alumno deberá escoger **una** de las dos opciones propuestas y responder a las cuestiones de la opción elegida.

**CALIFICACIÓN:** El valor de las preguntas se asigna al final de su enunciado.

**TIEMPO:** 90 minutos.

**OPCIÓN A**

**SECCIÓN TEÓRICA**

**1ª Parte: “Las cordilleras exteriores españolas”**

Desarrolle, de manera sintética, el tema propuesto atendiendo a los siguientes apartados (utilice, como máximo, una cara y media de un folio):

1. Situación y disposición de los sistemas orográficos.
2. Génesis y principales rasgos del relieve.

*Puntuación máxima: 2,5 Puntos*

**2ª Parte:** Defina con precisión ocho de los diez **conceptos** siguientes (escriba, como máximo, una cara de un folio):

**Censo de población; jerarquía urbana; Unión Europea; municipio; periferia urbana; inmigración; éxodo rural; tasa de fecundidad; bulevar; C.B.D.**

*Puntuación máxima: 2 Puntos*

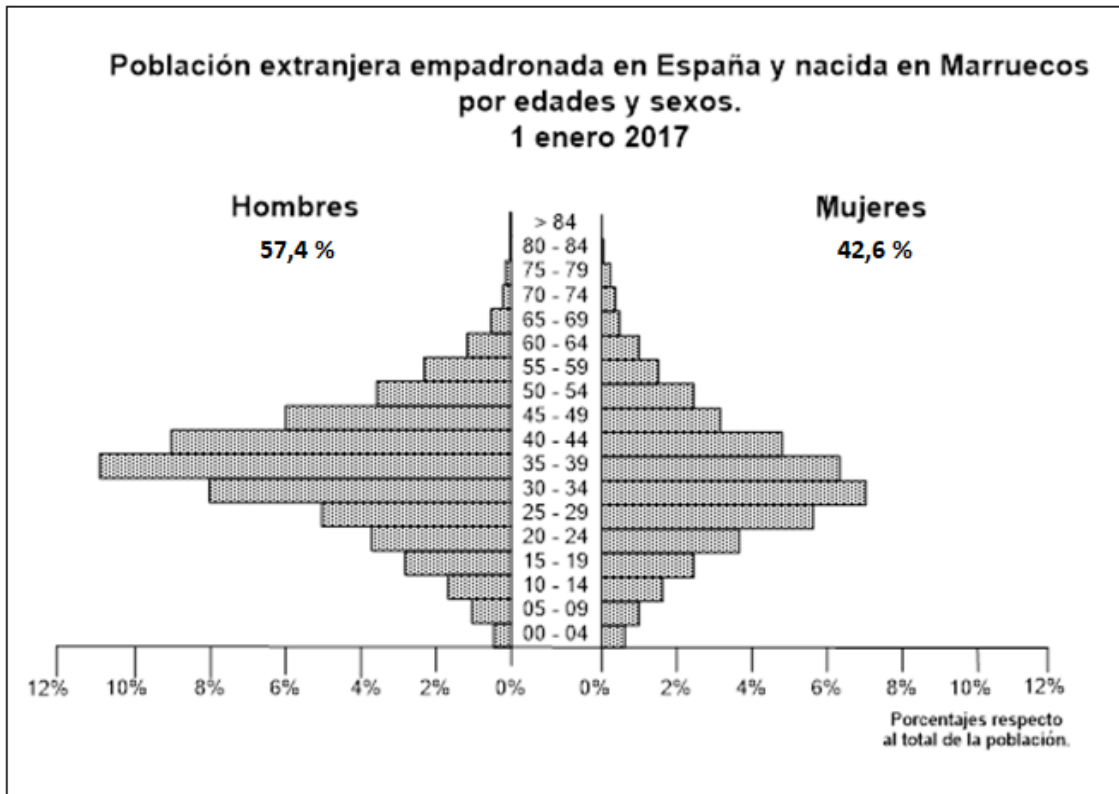
**SECCIÓN PRÁCTICA**

**3ª Parte:** Comente la **lámina etiquetada con la opción A** en el siguiente orden:

1. Elementos del medio físico.
2. Elementos del medio humano.
3. La relación entre ellos.
4. Indique el tipo de paisaje geográfico que muestra la fotografía.

*Puntuación máxima: 1,5 Puntos*

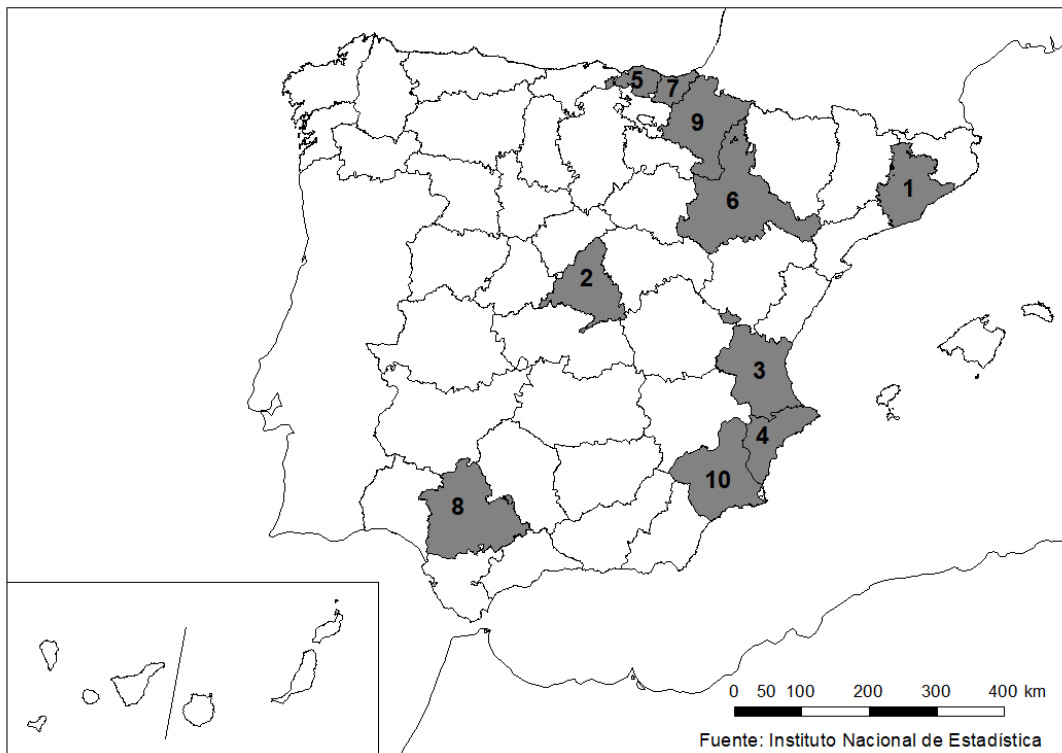
**4ª Parte:** A partir de la siguiente pirámide de población realice un comentario y explique las posibles razones de esta distribución por edad y sexo de la población de Marruecos empadronada en España.



Fuente:INEBASE.

Puntuación máxima: 2 Puntos

**5ª Parte:** A la vista del mapa adjunto, “**Provincias con más de 288.000 personas ocupadas en el sector industrial en 2017**”, indique el nombre de cada provincia numerada y argumente las posibles razones de esta distribución.



Puntuación máxima: 2 Puntos

## OPCIÓN B

### SECCIÓN TEÓRICA

#### **1ª Parte: “La industria en España”.**

Desarrolle, de manera sintética, el tema propuesto atendiendo a los siguientes apartados (utilice, como máximo, una cara y media de un folio):

1. Tipos de industria.
2. Principales regiones industriales.

*Puntuación máxima: 2,5 Puntos*

**2ª Parte:** Defina con precisión ocho de los diez **conceptos** siguientes (escriba, como máximo, una cara de un folio):

**Meridiano cero; relieve alpino; proyección cartográfica; piedemonte; piscifactoría; golfo; roca sedimentaria; isoyeta; vega; teledetección.**

*Puntuación máxima: 2 Puntos*

### SECCIÓN PRÁCTICA

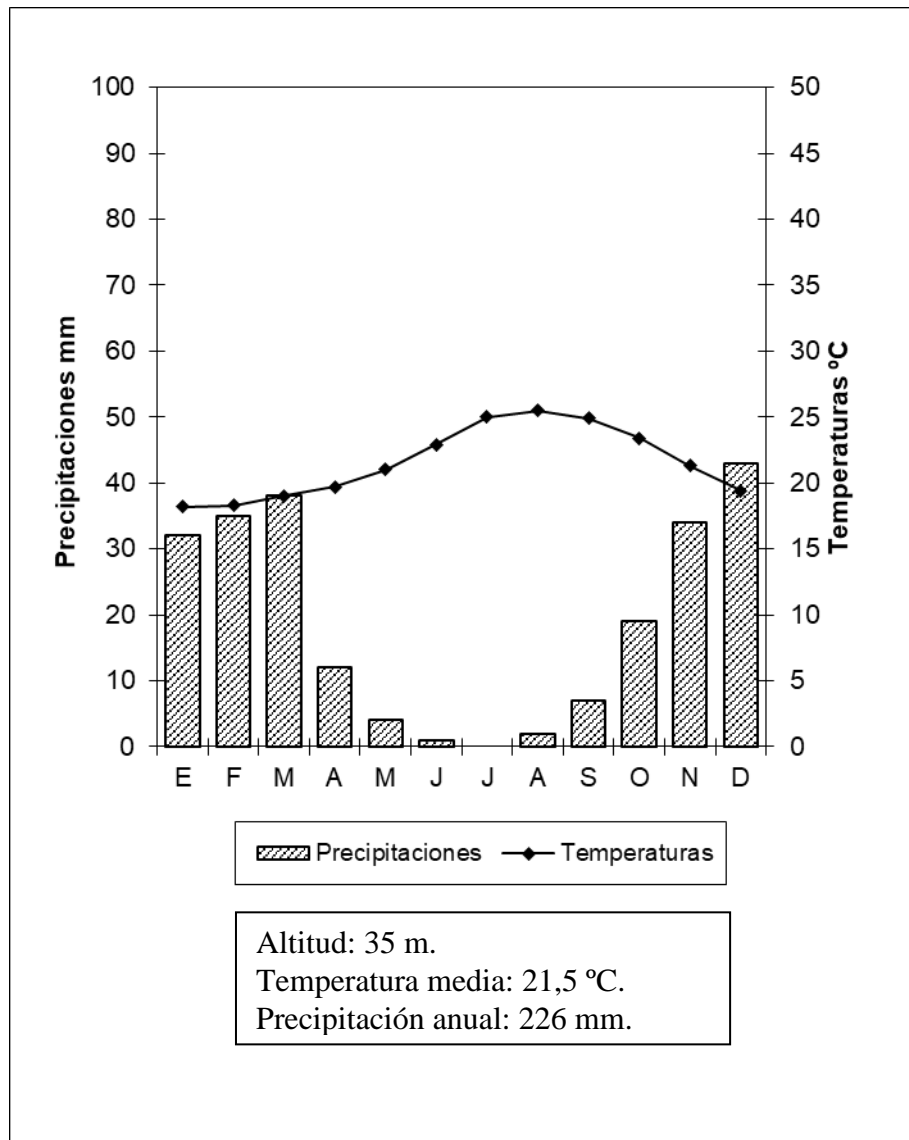
**3ª Parte:** Comente la **lámina etiquetada con la opción B** en el siguiente orden:

1. Elementos del medio físico.
2. Elementos del medio humano.
3. La relación entre ellos.
4. Indique el tipo de paisaje geográfico que muestra la fotografía.

*Puntuación máxima: 1,5 Puntos*

**4ª Parte:** Realice un comentario del siguiente climograma, atendiendo, al menos, a estos aspectos:

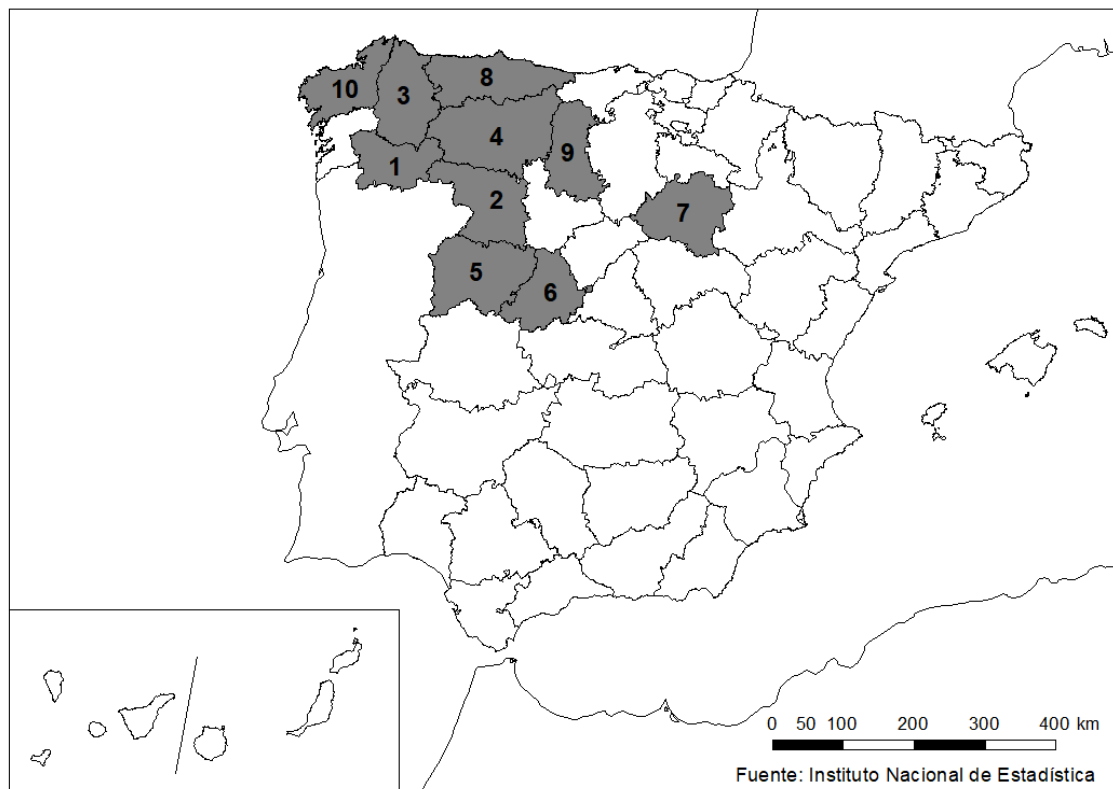
1. Régimen de las temperaturas medias mensuales y de las precipitaciones.
2. Pertenencia a alguna de las variedades climáticas de España y su área de distribución.



Meses	E	F	M	A	M	J	J	A	S	O	N	D	Media	Total
Precipitaciones(mm)	32	35	38	12	4	1	0	2	7	19	34	43		226
Temperaturas °C	18,2	18,3	19	19,7	21	22,9	25	25,5	24,9	23,4	21,3	19,4	21,5	

*Puntuación máxima: 2 Puntos*

5ª Parte: A la vista del mapa “Provincias con más de un 24,5% de población mayor de 65 años (2018)” indique las provincias numeradas y explique posibles causas de esta distribución.



*Puntuación máxima: 2 Puntos*

## GEOGRAFÍA

### CRITERIOS ESPECÍFICOS DE CORRECCIÓN Y CALIFICACIÓN

#### A) CRITERIO GENERAL:

La puntuación total será, en ambas pruebas, de **10 puntos**. Cada Opción tiene una **Sección Teórica formada por las partes 1 y 2 (4,5 puntos)** y una **Sección Práctica formada por las partes 3, 4 y 5 (5,5 puntos)**, correspondiendo a la primera parte **2,5 puntos**; a la segunda **2 puntos**; a la tercera **1,5 puntos**, a la cuarta, **2 puntos**, y a la quinta parte **2 puntos**. La estructura y los criterios de **corrección** serán los siguientes, tanto para la **Opción A** como para la **Opción B**.

#### B) CRITERIOS CONCRETOS:

##### 1ª parte: 2,5 puntos

Trata del “*desarrollo de un tema*”, valorando fundamentalmente la ordenación, la estructuración, la coherencia expositivo-argumentativa, la claridad, la precisión y la organización sintética de los conocimientos, junto con la correcta localización, la comprensión y caracterización de los fenómenos geográficos que se suman al grado y profundidad de los conocimientos. **La puntuación asignada a esta pregunta se distribuirá equitativamente entre los subepígrafos del enunciado.**

##### 2ª parte: 2 puntos

*Definición* de una serie de *términos geográficos y conceptos*. Las respuestas deberán valorarse con un criterio amplio, ya que son numerosas las posibilidades expresivas correctas. En todo caso, se atenderá a la precisión geográfica en la caracterización del término o concepto, y a la claridad conceptual.

##### 3ª parte: 1,5 puntos

*El estudiante ha de interpretar una imagen de paisaje geográfico*. Las respuestas deberán valorarse con un criterio amplio, ya que son numerosas las posibilidades expresivas correctas.

##### 4ª parte: 2 puntos

Se propone “*el comentario de un documento geográfico, grafico, estadístico*”.

##### 5ª parte: 2 puntos

Se valorará la localización del hecho cartografiado, así como su correcta explicación. **Cada localización correcta de las diez posibles tendrá un valor de 0,10 puntos.**

**En las cinco partes de que consta la prueba, se considerarán elementos de ponderación; v.gr.: la calidad de la redacción, la corrección expositivo-argumentativa, la gramatical y la ortográfica.**



GEOGRAFÍA  
LÁMINA OPCIÓN A



La Cañada Real (MADRID)



# GEOGRAFÍA

## LÁMINA OPCIÓN B



**Benidorm (Alicante)**